

JE
RÉUSSIS

2^e
année

ÉCRIT
PAR DES
ENSEIGNANTS
BELGES

MATHS

5x4

2^e
année



56

64 PAGES
D'EXERCICES!

$\frac{7}{+2}$



9:3

+ LE CORRIGÉ

Sommaire

Nombres

L'ordre des nombres.....	2
L'ordre croissant et l'ordre décroissant.....	5
Les signes < (plus petit que), = (égal), > (plus grand que).....	8
Le rang.....	10
La numération en base 10	11
L'addition.....	14
La soustraction.....	18
La multiplication.....	22
La division.....	25
D'autres divisions, les fractions.....	27
Les suites.....	28
Les problèmes.....	30
Lire et comprendre un graphique	35

Géométrie

Les figures.....	36
Les solides.....	39
Les régions et les frontières.....	42
Le repérage de cases sur un quadrillage.....	46
Les déplacements sur un quadrillage.....	47
La symétrie.....	48

Mesure

Comparer et estimer des grandeurs.....	50
Les instruments de mesure.....	52
Le mètre et le décimètre.....	53
Le centimètre.....	54
L'heure.....	57

Corrigés.....	58
---------------	----

Retrouvez-nous sur

www.jereussis.be

Nombres

L'ordre des nombres



1

Trouve le nom des élèves de ma classe!

- A** est le plus turbulent de la classe. Son numéro est situé entre 39 et 41.
- B** a déjà amené un hamster dans son sac d'école. Son numéro est situé avant 73 et après 71.
- C** est un nouveau dans la classe. Son numéro est situé entre 43 et 54.
- D** a du mal à voir au tableau : il lui faudrait des lunettes. Son numéro est situé entre 23 et 25.
- E** et sont les deux inséparables de la classe. Leurs numéros sont immédiatement avant et après 98.
- F** et se disputent tout le temps pendant la récréation. Leurs numéros sont entre 78 et 81.
- G** pleure souvent. Son numéro est entre 55 et 60.
- H** lève toujours la main pour répondre. Son numéro est immédiatement avant 70.
- I** est le meilleur en éducation physique. Son numéro est immédiatement après 89.
- J** est la chouchou du professeur. Son numéro est entre 29 et 34.
- K** est la meilleure en math. Son numéro est entre 9 et 17.
- L** est le meilleur en français. Son numéro est immédiatement avant 90.

2 Écris les nombres qui sont situés **entre** ceux qui figurent ci-dessous.


9 11 63 65 89 91 70 72
17 19 31 33 54 56 65 67

3 Écris les nombres qui sont situés immédiatement **avant** et **après** ceux que tu lis ci-dessous.

24 60 79
 55 12 27

4 Écris les deux nombres qui sont situés immédiatement **avant** et **après** ceux que tu lis ci-dessous.

23
 44



5 Écris les deux nombres qui sont situés **entre** ceux qui figurent ci-dessous.

17 20 33 36
51 54 11 14

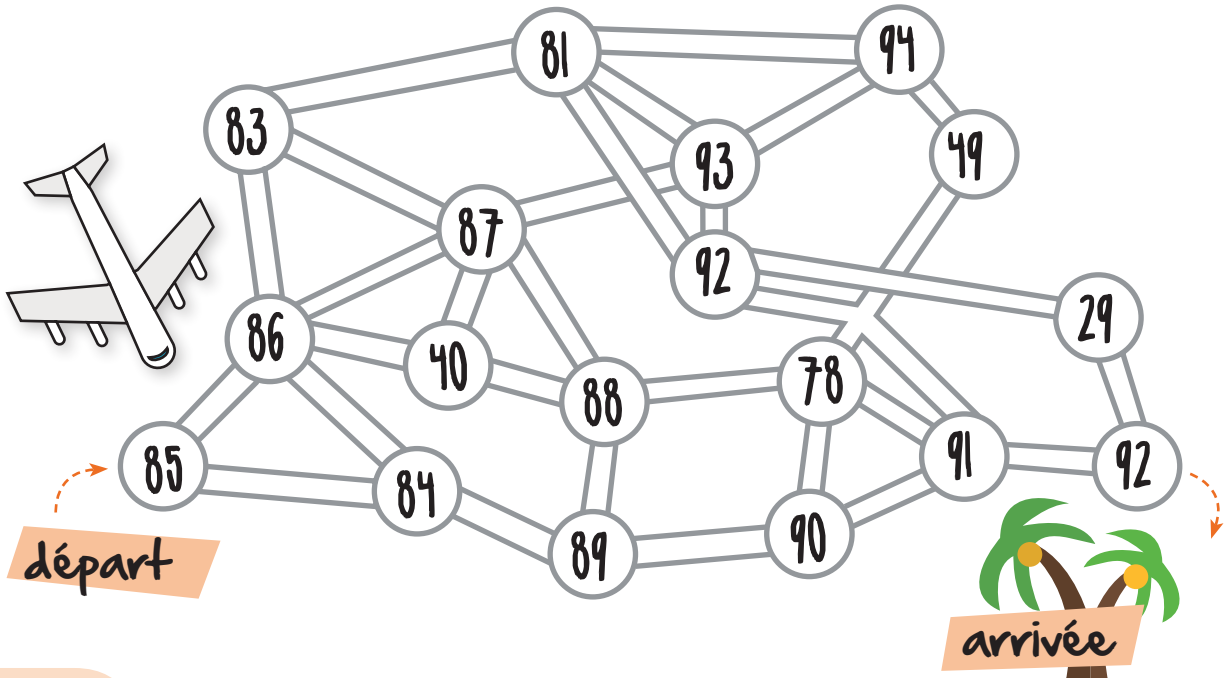
6 Écris les nombres qui manquent.

42 44 48 50

L'ordre croissant et l'ordre décroissant

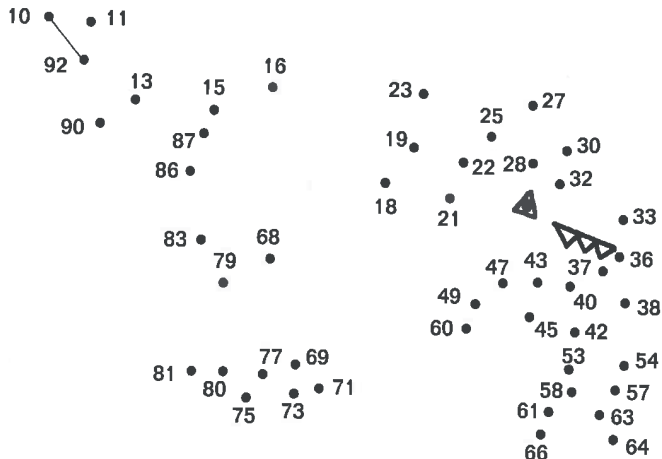
1

Pour arriver à l'oasis sans se perdre, ce voyageur du désert doit aller d'une dune à l'autre en suivant les nombres dans l'ordre croissant. Trace le chemin qu'il doit prendre.





2

Pour savoir quel animal menace le voyageur, relie les points par ordre croissant.



3

Complète le dessin en reliant les points par ordre décroissant.



4

Trouve le nom du pire ennemi de l'animal que tu viens de découvrir! Place les nombres ci-dessous dans l'ordre croissant, puis aligne les lettres correspondantes.

74	42	89	69	54	11	98
ç	a	o	e	m	h	n

—	—	—	—	—	—	—
—	—	—	—	—	—	—

5 Les nombres ci-dessous ont été classés par ordre croissant, mais deux nombres se sont glissés par erreur. Barre-les.

12 23 35 49 56 65 57 75 87 78 96 99

6 Classe les nombres ci-dessous dans les bonnes cases.

19 34 45 42 54 67 29 95 89 71 53

		32				49		
60		69				99		

7 Les nombres ci-dessous ont été classés par ordre décroissant, mais deux nombres se sont glissés par erreur. Barre-les.

99 86 76 69 75 64 63 57 55 48 53 39 36 27

8 Classe les nombres ci-dessous dans les bonnes cases.

32 36 47 18 92 76 68 95 87 58 53

	93			78				
49				23		7		

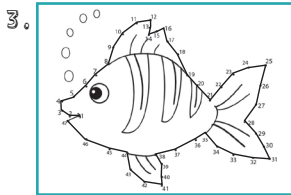
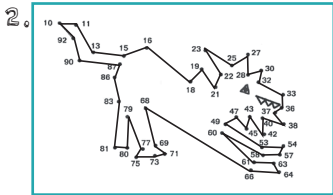
Corrigés

Pages 2 à 4 L'ordre des nombres

1. a) Grégoire b) Marie c) Abdou d) Nicolas e) Anne et Slava f) Patrick et Jérôme
g) Jeanne h) Sarah i) Amin j) Caroline k) Minh-Tu l) Victor
2. 9 **10** 11 • 63 **64** 65 • 89 **90** 91 • 70 **71** 72 • 17 **18** 19 • 31 **32** 33 • 54 **55** 56 • 65 **66** 67
3. **23** 24 **25** • 59 60 **61** • **78** 79 **80** • **54** 55 **56** • **11** 12 **13** • **26** 27 **28**
4. **21** **22** 23 **24** **25** • **42** **43** 44 **45** **46**
5. 17 **18** **19** 20 • 33 **34** **35** 36 • 51 **52** **53** 54 • 11 **12** **13** 14
6. 42 **43** 44 **45** **46** **47** 48 **49** 50 **51**

Pages 5 à 7 L'ordre croissant et l'ordre décroissant

1. Suivre les nombres dans cet ordre : 85, 86, 87, 88, 89, 90, 91, 92.



4. le pire ennemi du poisson est l'**hameçon**.
5. Barrer 57 et 78.
6. **19** **29** 32 **34** **42** **45** 49 **53** **54** 60 **67** 69 **71** **89** **95** 99
7. Barrer 75 et 53.
8. **95** 93 **92** **87** 78 **76** **68** **58** **53** 49 **47** **36** **32** 23 **18** 7



JE RÉUSSIS

www.jereussis.info

Compter, mesurer, calculer, résoudre des problèmes, reconnaître les formes géométriques...

En un seul livre, tous les exercices du programme de mathématiques !



Réussis ta 2^e année

Ce cahier servira toute l'année pour compléter le travail fait en classe, remédier aux difficultés et réviser la matière.

Réussis ta 2^e année

Grâce à sa présentation claire et à ses exercices évolutifs, il permet d'accompagner et de soutenir les apprentissages.



Réussis ta 2^e année

Une aide réelle à la réussite !



Agréé par la Communauté française.
Collection conforme aux programmes belges.

Retrouvez-nous

sur



pour des concours,
des news,
toutes les nouveautés...

Prix conseillé : 5,90€ TTC
ISBN : 978-2-87468-063-5



9 782874 660535