

JE RÉUSSIS

1<sup>re</sup>  
année

ÉCRIT  
PAR DES  
ENSEIGNANTS  
BELGES

# MATHS

5x4

1<sup>re</sup>  
année



64 PAGES  
D'EXERCICES!

$\frac{7}{+2}$



9:3

+ LE CORRIGÉ

56

# Sommaire

<b>Nombres.....</b>	<b>2</b>
Lire et écrire les nombres .....	2
Les ensembles.....	4
Les signes : < (plus petit que) = (égal) > (plus grand que) .....	8
L'ordre croissant .....	12
Le rang.....	14
L'addition.....	16
La soustraction .....	20
La multiplication.....	24
La division.....	27
Les suites .....	30
La monnaie .....	33
<b>Le grand jeu .....</b>	<b>34</b>
Problèmes.....	36
<b>Géométrie.....</b>	<b>39</b>
Les régions et les frontières .....	39
Les figures .....	45
Les solides .....	48
<b>Mesure .....</b>	<b>49</b>
Comparer et estimer des grandeurs.....	49
Mesurer .....	53
L'heure .....	57
<b>Corrigés.....</b>	<b>58</b>

Retrouvez-nous sur

[www.jereussis.info](http://www.jereussis.info)

© Je Réussis Éditeur

Imprimé en CEE

Dépot légal : D/2014/9685/61 – ISBN : 978-2-87466-052-8 – EAN : 9782874660528

Toute reproduction ou adaptation d'un extrait quelconque de ce livre par quelque procédé que ce soit, et notamment par photocopie ou microfilm, est interdite sans autorisation écrite de l'éditeur.

Sous la direction d'A.J. Le Clercq.

# Nombres

## Lire et écrire les nombres

1 Relie chaque enfant au dossard qui lui appartient.



Je cherche le numéro dix-neuf.

Où est le numéro neuf?

Moi, j'ai le numéro vingt-six.

Il me faut le numéro onze.



2 Écris les nombres en chiffres.

A Douze

B Seize

C Quatorze

D Vingt

E Dix


F Cinq

G Dix-huit

H Quinze

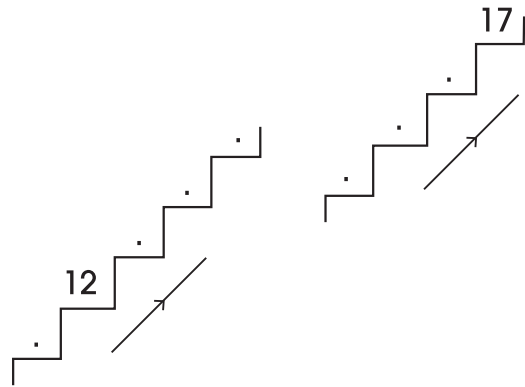
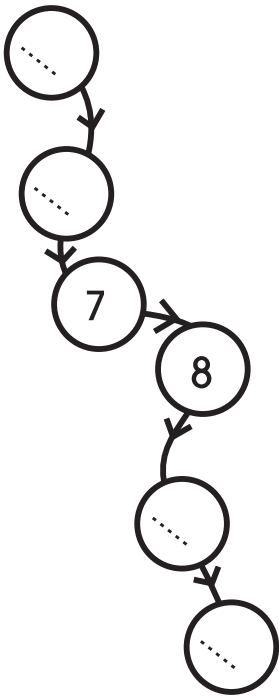
# 3

Écris les nombres qui manquent.

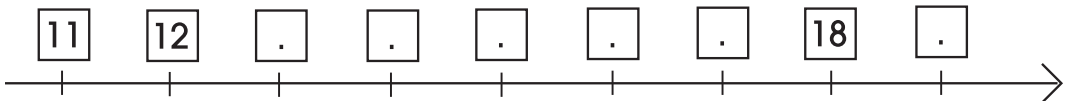


# 4

Complète les lignes de nombres.




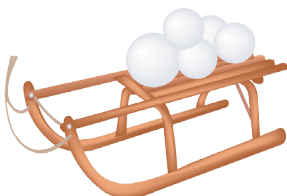
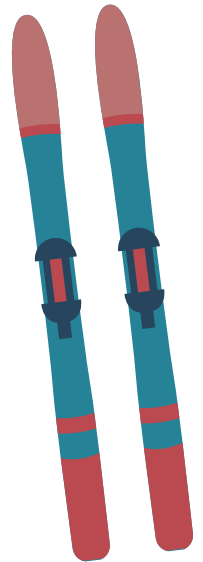

20	.	.	13	.	.
.	19	.	.	.	11
.	.	14	17	.	.
9	.	.	.	10	.
.	.	5	.	18	.



# Les ensembles

1

Félix et Coralie partent en voyage. Coralie va au pôle Nord. Félix va au bord de la mer. Aide-les à faire leur valise en reliant chaque objet à la valise qui convient.





2

- A Entoure en noir l'ensemble des animaux.
- B Entoure en bleu l'ensemble des animaux à plume.  
Combien y a-t-il d'éléments dans cet ensemble? .....
- C Entoure en vert l'ensemble des animaux qui ont des poils.  
Combien y a-t-il d'éléments dans cet ensemble? .....

3



- A Entoure en rouge l'ensemble des enfants.
- B Entoure en bleu l'ensemble des enfants qui portent une casquette.
- C Entoure en vert l'ensemble des enfants qui mangent un cornet de crème glacée.
- D Combien d'enfants portent une casquette et mangent un cornet de crème glacée? .....



La salle d'attente de l'aéroport



4

Regarde le dessin de la page précédente et fais une croix dans la bonne case du tableau.

		
B		
E		
F		
G		
H		

5

Regarde le tableau et dessine des rayures ou des points sur les tee-shirts.

		
A	×	
E	×	
F		×
G		×
K	×	

6

Le chien Plaf a perdu ses maîtres.

Retrouve les membres de sa famille grâce à cet indice : et entoure-les.



7

Dessine des points dans les rectangles pour illustrer l'ensemble des enfants de la page ci-contre, puis écris dans les étiquettes le nombre correspondant à chaque ensemble.

## Enfants

Filles			Garçons





# Corrigés

## Nombres

Pages 2 et 3 Lire et écrire les nombres.

1. 26/vingt-six; 19/dix-neuf; 9/neuf; 11/onze.

2. a) 12 b) 16 c) 14 d) 20 e) 10 f) 5 g) 18 h) 15

3.

1	2	3	4	5	6	7	8	9	10
11	12	13	14	15	16	17	18	19	20

4.

Pages 4 à 7 Les ensembles

1. Dans la valise de Coralie: le bonnet, la luge, les skis, les gants  
 Dans la valise de Félix: le ballon, le seau, la crème solaire, les tongs, le bateau.

2.

3.

4. Dans la colonne du sac à dos, cocher les cases B, E et H.  
 Dans la colonne de la valise, cocher les cases F et G.

5. Dessiner des rayures sur les tee-shirts de A, E et K.  
 Dessiner des points sur les tee-shirts de F et G.

6. Les personnages à entourer sont: E, I et K.

7. Nombre de filles: 4, dessiner 4 points.      Nombre de garçons: 2, dessiner 2 points.



Retrouvez-nous

sur



pour des concours,  
des news,  
toutes les nouveautés...

et sur notre site Internet [www.jereussis.info](http://www.jereussis.info)

**Compter, mesurer, calculer, résoudre des problèmes, reconnaître les formes géométriques...**

En un seul livre, tous les exercices du programme de mathématiques !

### Réussis ta 1<sup>re</sup> année

Ce cahier servira toute l'année pour compléter le travail fait en classe, remédier aux difficultés et réviser la matière.



### Réussis ta 1<sup>re</sup> année

Grâce à sa présentation claire et à ses exercices évolutifs, il permet d'accompagner et de soutenir les apprentissages.



### Réussis ta 1<sup>re</sup> année

Une aide réelle à la réussite !



**Agréé par la Communauté française.  
Collection conforme aux programmes belges.**

Également aux

Éditions  
Je Réussis



Découvrez aussi nos applications,  
pour apprendre en s'amusant !



Disponible sur  
App Store

Prix conseillé : 5,90€ TTC  
ISBN : 978-2-87486-052-8



9 782874 660528