

Prénom: .....

Date: .....

## Les partages inégaux



Lis les problèmes ci-dessous et recherche, au verso, le schéma qui leur correspond.

Indique le numéro du schéma en-dessous du problème.

Souligne, dans les problèmes, les indices qui t'ont aidé.

- 1) Louis, Juliette et Sabrina ont ensemble 63 cartes.  
Sabrina en a 4 fois plus que Louis et Juliette en a la moitié de Sabrina.

Schéma n° → .....

- 2) Louis, Juliette et Sabrina ont ensemble 63 cartes.  
Juliette a 7 cartes en plus que Louis mais 10 cartes en moins que Sabrina.

Schéma n° → .....

- 3) Louis, Juliette et Sabrina ont ensemble 63 cartes.  
Juliette a 7 cartes en plus que Louis et Sabrina en a le double de Juliette.

Schéma n° → .....

- 4) Louis, Juliette et Sabrina ont ensemble 63 cartes.  
Louis possède trois fois plus de cartes que Juliette et Sabrina en a le double de Louis.


Schéma n° → .....

- 5) Louis, Juliette et Sabrina ont ensemble 63 cartes.  
Sabrina a 7 cartes en plus que Juliette et Louis a le triple de Sabrina.

Schéma n° → .....

**1**

Louis



Juliette



Sabrina



63 cartes

**2**

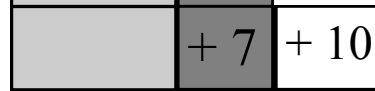
Louis



Juliette



Sabrina



63 cartes

**3**

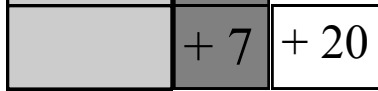
Louis



Juliette



Sabrina



63 cartes

**4**

Louis



Juliette




Sabrina



63 cartes

**5**

Louis



Juliette




Sabrina



63 cartes

**6**

Louis



Juliette



Sabrina



63 cartes